

7 Calcule pour trouver la hauteur des clochers de l'église Saint Etienne :

A		B		A + B
	13.75		10.45	A _____
+	7.08	+	11.22	B _____
_____		_____		_____

La hauteur des clochers est de : _____ mètres

8 L'Office de Tourisme ressemble à une cabane de pêche en bordure de rivière.



Remet les mots ci-dessous dans l'ordre pour trouver le nom de cette cabane .

1 Construction simple, en bois
A E B N A C

1 _____

2 Embarcation en bois circulant au-trefois sur la Dordogne

A E R A B G

2 _____

3 Vague qui se forme à marée montante

T C R A A S M E

3 _____

4 Cours d'eau qui se jette dans un autre cours d'eau plus important

E R I V R I E

4 _____

5 Oiseau noir ou blanc au long cou

Y C E G N

5 _____

6 Poisson migrateur, spécifique à la Dordogne

P E M I A O L R

6 _____

7 Nom de la rivière

G O N D R O D E

7 _____

8 Ensemble des arbres et des plantes

E T G O N I E T A V

8 _____

Lorsque tu auras fini, rapporte tes réponses à l'Office de Tourisme...
Si tes réponses sont correctes, une surprise t'attend ! Alors fonce !!!
Nous espérons que tu aimeras cette visite et nous te souhaitons un bon séjour.



Office de Tourisme Castillon-Pujols
Tél : +33(0)5.57.74.90.24 - tourisme@castillonpujols.fr
www.tourisme-castillonpujols.fr



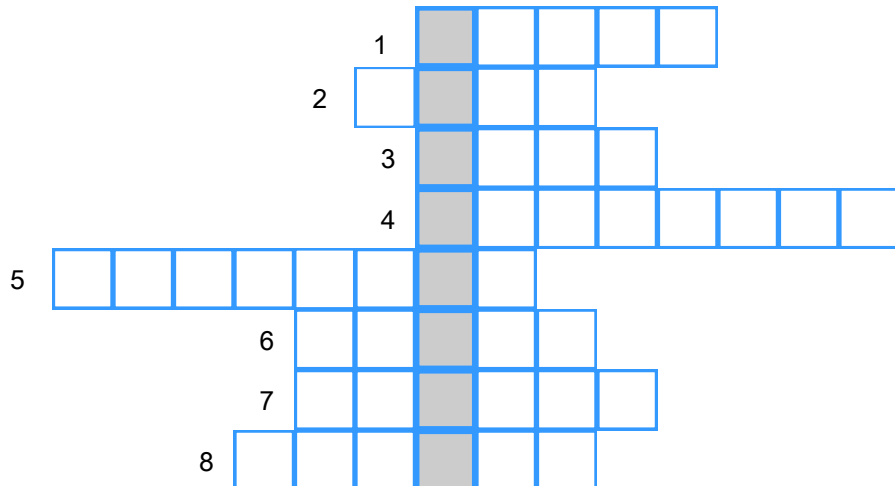
Branne est une petite commune blottie sur le bord de la Dordogne, à la limite du Saint Emilionnais.

La commune doit son essor au commerce fluvial qui s'est développé au XVIIème siècle avec la navigation des belles gabares sur la rivière .

Découvre la ville en t'amusant. Le départ se fait à partir de l'Office du Tourisme

1 Trouve les réponses des définitions ci-dessous pour faire apparaître le nom de la rivière.

1. Obstacle servant à contenir l'eau ou à détourner son cours
2. Relie deux rives
3. Bande de terre qui borde une étendue d'eau
4. Bateau muni d'une dérive
5. Sport d'eau
6. Oiseau noir ou blanc au long cou
7. Construction qui permet de prendre le bateau
8. Embarcation qui permet de naviguer



2 Les quais de Branne ont été souvent inondés. **Tu trouveras sur les quais la date à laquelle a eu lieu la plus grande crue.**

- 1981 1944 1982

3 La Halle de Branne date de 1672


Compte les lanternes : _____

4 Juste en face de la mairie, tu découvres le monument aux morts. Ce monument permet de rendre hommage aux personnages disparus lors de la 1ère Guerre Mondiale (1914-1918)

Comment appelle-t-on les soldats qui ont participé à cette guerre ?


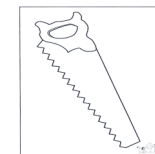
- A. Les Barbus B. Les Poilus C. Les Chevelus

5 Quelle voie amènera Robin jusqu'à l'église Saint Etienne



6 L'église Saint Etienne date de 1877. Elle a été construite sur l'emplacement d'une ancienne église romane.

Résous le rébus pour trouver qui a financé la construction de cet édifice .



Réponse : _____